

# Educazione Stradale

Alunno _____	classe _____	data _____
--------------	--------------	------------

**Rispondi alle seguenti domande.**

## 1. Chi sono gli utenti della strada?

.....

## 2. A seconda del tipo di mezzo impiegato quale nome assumono?

.....

.....

.....

## 3. Abbinare ogni frase alla sua conclusione.

- A Durante la marcia i conducenti devono
- B Agli incroci se non è altrimenti segnalato si ha l'obbligo di
- C In bicicletta è vietato
- D Ai ciclisti è vietato
- E Se non c'è il marciapiede i pedoni devono
- F A tutti i veicoli è vietato
- G Con la bicicletta o il motorino occorre
- H I pedoni sono obbligati a

- ..... usare i passaggi pedonali se non si trovano a più di 100 m.
- ..... tenere la distanza di sicurezza rispetto al veicolo che precede.
- ..... evitare di passare su ghiaia o terriccio sparsi sulla strada.
- ..... superare i tram, fermi o in moto, a sinistra.
- ..... camminare lungo il margine della sinistra della strada.
- ..... circolare appaiati o a gruppi.
- ..... dare la precedenza ai veicoli che provengono da destra.
- ..... trasportare passeggeri.









## 4. Segnali da conoscere.

Ecco alcuni segnali la cui conoscenza è indispensabile per girare in bici o in motorino. Ricopiateli sul quadernone e abbinateli alle didascalie appropriate, qui esposte a caso.

- A. Bisogna fermarsi in tutti i casi e dare la precedenza a tutti i veicoli.
- B. I veicoli, bici e motorini compresi, non possono percorrere la strada in alcun senso.
- C. Transito riservato ai pedoni.
- D. La strada non è percorribile dai veicoli a motore: è riservata ai pedoni e alle biciclette.
- E. Se si prosegue, bisogna andare a destra.
- F. Bisogna dare la precedenza ai veicoli che arrivano sia da destra che da sinistra.
- G. Non si può accedere alla strada, la si può percorrere solo in senso opposto.

H. Transito vietato ai soli motociclisti.

I. Transito vietato ai ciclisti.

<b>113</b> 	<b>55</b> 	<b>95</b> 
<b>54</b> 	<b>40</b> 	<b>41</b> 
<b>63</b> 	<b>64</b> 	<b>108</b> 